




Závěrečný test z hudební nauky – 3. ročník

1) Napiš názvy not:






cis² h des² ais¹ f¹ c³
půlová čtvřřová čtvřřová celá osminová celá

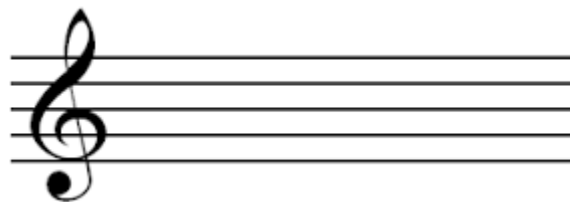


g² hes² e¹ d¹ g fis²
čtvřřová půlová celá osminová čtvřřová celá

2) Vytvoř kvintakordy a jejich dva obraty:



G dur kvintakord sextakord kvartsextakord



D dur kvintakord sextakord kvartsextakord

3) K zadanému tónu doplň vrchní intervaly:



v. 3 č. 5 v. 6 č. 8 v. 7 č. 4



č. 1 v. 2 v. 6 č. 5 v. 2 v. 3

4) Jaké 3 typy mollových stupnic znáš?

.....

OTOČ →

5) Vysvětli, co jsou stejnojmenné a paralelní stupnice

.....

.....

.....

6) Doplň dvojice stejnojmenných stupnic:

E dur -, B dur -, C dur -

7) Doplň dvojice paralelních stupnic:

G dur -, F dur -, D dur -

8) Napiš stupnici E dur a nezapomeň na předznamenání!

